

Запиши здесь свои фамилию, имя, отчество и класс

## МАТЕМАТИКА 1 класс

1. Весенние каникулы продолжаются с 23 по 29 марта включительно. Посмотри на календарь и ответь на вопросы.

	ФЕВРАЛЬ	МАРТ	АПРЕЛЬ
Пн	2 9 16 23	2 9 16 23 30	6 13 20 27
Вт	3 10 17 24	3 10 17 24 31	7 14 21 28
Ср	4 11 18 25	4 11 18 25	1 8 15 22 29
Чт	5 12 19 26	5 12 19 26	2 9 16 23 30
Пт	6 13 20 27	6 13 20 27	3 10 17 24
Сб	7 14 21 28	7 14 21 28	4 11 18 25
Вс	1 8 15 22	1 8 15 22 29	5 12 19 26

**Вопрос А:** Запиши в ответе, сколько дней продолжаются весенние каникулы.

**Ответ:** \_\_\_\_\_

**Вопрос Б:** Каким календарём ты воспользуешься, чтобы узнать, в какой день недели ты начнёшь учиться после весенних каникул. Обведи букву выбранного ответа.

А. Февраль

Б. Март

В. Апрель

**Вопрос В:** Запиши в ответе, каким днём недели закончится март.

**Ответ:** \_\_\_\_\_

**Вопрос Г:** На пятый день каникул ваш класс пойдёт в театр. Выбери дату посещения театра. Обведи букву выбранного ответа.

А. 23 марта

Б. 27 марта

В. 30 марта

Г. 3 апреля

Д. 5 апреля

2. Врач прописал тебе пить по 1 таблетке 2 раза в день. В упаковке 10 таблеток.

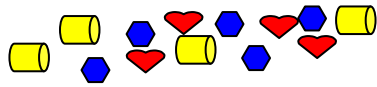
**Вопрос А:** Запиши в ответе, на сколько дней тебе хватит упаковки таблеток.

**Ответ:** \_\_\_\_\_

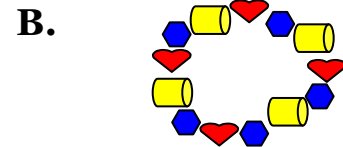
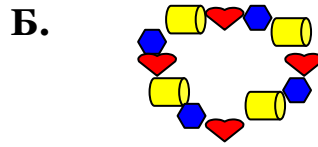
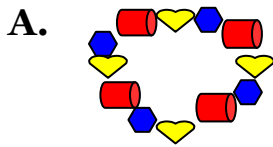
**Вопрос Б:** Определи, сколько таблеток останется, если ты будешь пить лекарство 3 дня. Запиши в ответе.

**Ответ:** \_\_\_\_\_

3. Твоя сестра смастерила бусы. Ты нечаянно порвал нитку, и бусинки рассыпались.



**Вопрос А:** Определи, какую нитку бус ты порвал? Обведи букву выбранного ответа.



**Вопрос Б:** Сколько секунд тебе потребуется, чтобы собрать бусы, если на одну бусинку в виде трубочки и сердечка затрачивается по 1 секунде, а на шестиугольную бусинку – 2 секунды? Запиши в ответе.

**Ответ:** \_\_\_\_\_

4. Вы играете в числовые загадки. Твой старший брат загадал тебе загадку: «Это число от 1 до 10, но не 2. Оно записано цифрой, которая содержится в числе этого года».

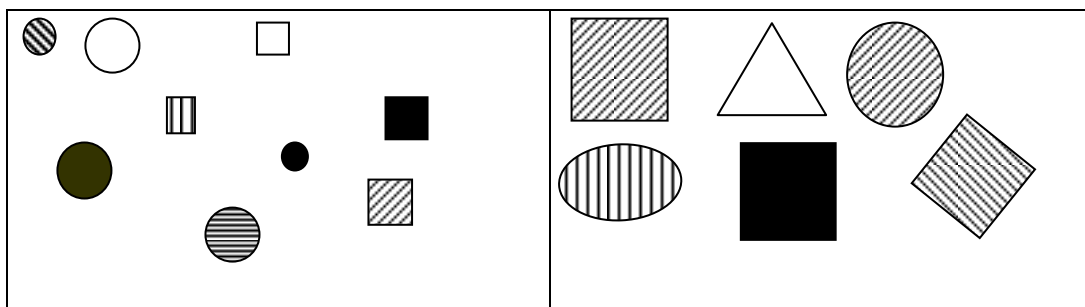
Запиши в ответе, какое число загадал брат.

**Ответ:** \_\_\_\_\_

5. У тебя на 4 конфеты больше, чем у сестры. Ты хочешь, чтобы конфет у вас стало поровну. Запиши в ответе, сколько конфет ты должен отдать сестре.

**Ответ:** \_\_\_\_\_

6. Для уроков математики старший брат смастерил для тебя фигурки и разложил их в конверты.



Определи, по какому признаку он разделил фигурки на два конверта. Выбери правильный вариант ответа. Обведи букву выбранного ответа.

- А. По размеру
- Б. По цвету
- В. По форме
- Г. По раскраске
- Д. Определить невозможно

7. Подбери слово по аналогии с первой парой. Запиши правильный ответ.

**Четыре : Четырёхугольник = Три : ?**

**Ответ:** \_\_\_\_\_

8. В тетради у тебя записано определение. Твой младший брат зачеркал фломастером одно из слов. Восстанови это слово. *Запиши его в ответе.*

..... - это прямоугольник, у которого все стороны равны.

**Ответ:** \_\_\_\_\_

9. На праздник тебе подарили набор из 12 конфет. Половину конфет ты отдал сестре, 3 конфеты тебе принёс папа. По одной конфете из твоего набора вы съели с мамой за чаем. *Запиши в ответе, сколько конфет у тебя осталось.*

**Ответ:** \_\_\_\_\_

10. Ты не слышал, о чём спросила учительница, но услышал ответы ребят. Ребята ответили: «У квадрата все стороны равны».

Какой вопрос задала учительница? *Выбери подходящий вариант:*

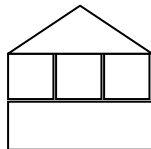
А. Является ли квадрат геометрической фигурой?

Б. Что вы знаете о сторонах квадрата?

В. Что такое квадрат?

Г. Можно ли квадрат назвать четырёхугольником?

11. Твой брат сложил домик из деталей строительного конструктора.



Какие из высказываний правильные для данного домика? *Обведи буквы правильных высказываний.*

А. Домик построен из пяти элементов.

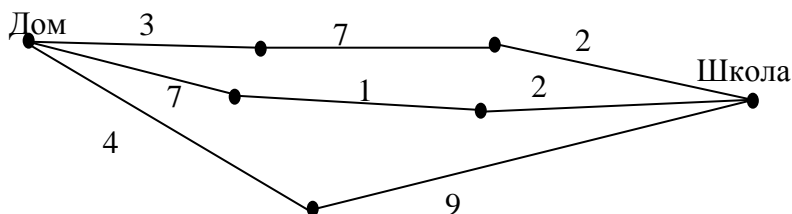
Б. В домике 3 этажа.

В. Для постройки использовано три вида деталей.

Г. Для постройки использовано не более двух одинаковых деталей.

Д. В среднем слое использованы только кубики.

12. От твоего дома до школы ведут три дорожки, вдоль которых растут деревья. По какой дороге тебе нужно идти в школу, чтобы пройти наибольшее количество деревьев (количество деревьев указано на каждом отрезке пути)?



*Выбери и обведи правильный ответ:*

А. ВЕРХНЯЯ

Б. СРЕДНЯЯ

В. НИЖНЯЯ

Г. ОДИНАКОВО

Д. ОПРЕДЕЛИТЬ НЕВОЗМОЖНО

***Желаем успехов в учебе!***